



② どちらが なんこ おおいでしょう



8こ




5こ

・りんごが 8こ あります。みかんが 5こ あります。りんごのほうが こ おおいです。

・しき

こたえ こ

③ なんばんめでしょうか。



ア たろうくんは まえから 5ばんめに ならんでいます。
よしこさんは たろうくんより 3にんまえにいます。
よしこさんは まえから なんばんめに ならんでいるでしょう。

こたえ ばんめ

イ たろうくんは まえから 5ばんめに ならんでいます。
つとむくんは まえから 9ばんめに ならんでいます。
つとむくんは たろうくんより なんばんあとに ならんでいるでしょう。

こたえ ばんめ

